

مدرسة أم صلال محمد الابتدائية للبنات
قسم الحوسبة وتكنولوجيا المعلومات
منتصف الفصل الدراسي الثاني
العام الأكاديمي 2024\2025



تدريبات علاجية فردية
الصف الثاني

إعداد المعلمة: ثاجبه محمد

منسقة الحاسب : لولا مصطفى





اسم الطالبة/.....

الصف والشعبة /.....

السؤال الأول: ضع علامة X أمام الاختيار الصحيح :


1	يمكننا حفظ الصور، النصوص، الفيديو، الصوت داخل ذاكرة الحاسوب ونطلق عليها اسم	
A	البرامج	<input type="checkbox"/>
B	الملفات	<input type="checkbox"/>
C	الفيروسات	<input type="checkbox"/>
2	اسم الملف المناسب لصورة عن مدرستي	
A	المدرسة	<input type="checkbox"/>
B	صور	<input type="checkbox"/>
C	الرياضة	<input type="checkbox"/>


	اسم الملف المناسب لصورة عن رياضتي المفضلة	3
	ملف 2	<input type="checkbox"/> A
	الحيوانات	<input type="checkbox"/> B
	التنس	<input type="checkbox"/> C


	اسم الملف المناسب لقائمة المناطق السياحية في قطر	4
	المدرسة	<input type="checkbox"/> A
	صورة	<input type="checkbox"/> B
	السياحة	<input type="checkbox"/> C


5			البرنامج الذي يستخدم لإنشاء ملف نصي هو :
	A	<input type="checkbox"/>	الدفتر
	B	<input type="checkbox"/>	الرسام
	C	<input type="checkbox"/>	متصفح الويب

6			البرنامج الذي يستخدم لإنشاء ملف صوري هو :
	A	<input type="checkbox"/>	الدفتر
	B	<input type="checkbox"/>	الرسام
	C	<input type="checkbox"/>	متصفح الويب

	اسم الملف المناسب لصورة عن العطلة الصيفية		7
	العطلة	<input type="checkbox"/>	A
	الحيوانات	<input type="checkbox"/>	B
	الرياضة	<input type="checkbox"/>	C

	ترمز هذه الأيقونة إلى ملف من نوع		8
	نص	<input type="checkbox"/>	A
	صورة	<input type="checkbox"/>	B
	فيديو	<input type="checkbox"/>	C

		ترمز هذه الأيقونة إلى ملف من نوع	9
	نص	<input type="checkbox"/>	A
	صورة	<input type="checkbox"/>	B
	فيديو	<input type="checkbox"/>	C

		ترمز هذه الأيقونة إلى ملف من نوع	10
	نص	<input type="checkbox"/>	A
	صورة	<input type="checkbox"/>	B
	فيديو	<input type="checkbox"/>	C

11	يرمز لامتداد الملف النصي بـ	
A	<input type="checkbox"/>	.rtf
B	<input type="checkbox"/>	.png
C	<input type="checkbox"/>	.mp3

12	يرمز لامتداد الملف الصوري بـ	
A	<input type="checkbox"/>	.rtf
B	<input type="checkbox"/>	.png
C	<input type="checkbox"/>	.mp3

13	برنامج يستخدم لتصفح المواقع الإلكترونية عبر شبكة الإنترنت
A	<input type="checkbox"/> برنامج الدفتر
B	<input type="checkbox"/> متصفح الويب
C	<input type="checkbox"/> برنامج الرسام

14	هو مكان داخل الحاسوب يستخدم لحفظ وتنظيم الملفات
A	<input type="checkbox"/> المجلد
B	<input type="checkbox"/> المحفظة
C	<input type="checkbox"/> برنامج الحاسوب

هي برامج مؤذية و خطيرة يمكن أن تتسبب بالعديد من المشاكل لملفاتنا و لأجهزة الحاسوب	15	
الفيروسات	<input type="checkbox"/>	A
امتدادات الملفات	<input type="checkbox"/>	B
متصفحات الويب	<input type="checkbox"/>	C

يمكن الانتقال إلى صفحات أخرى مرتبطة من خلال :	16	
المجلد	<input type="checkbox"/>	A
الرسام	<input type="checkbox"/>	B
الارتباط التشعبي	<input type="checkbox"/>	C

السؤال الثاني: أولاً: صل بين الكلمات في العمود الأول وما يناسبها من الصور في العمود الثاني بكتابة الرقم المناسب بجانب الصورة:

		1	البرنامج الذي يستخدم لإنشاء الملف النصي
		2	يرمز للمجلد بالأيقونة
		3	فيروسات الحاسوب هي برامج تضر الحاسوب
		4	أيقونة متصفح الويب
		5	البرنامج الذي يستخدم لإنشاء الملف الصوري
		6	تجنب الضغط على الإعلانات عند تصفح الإنترنت

		<p>7</p> <p>أيقونة ملف الفيديو</p>	
		<p>8</p> <p>أيقونة ملف الصورة</p>	
		<p>9</p> <p>استخدم دوماً اسماً مستعاراً</p>	
		<p>10</p> <p>برامج الحماية من الفيروسات</p>	

السؤال الثالث: قم باختيار الأسماء المستعارة المناسبة و تلك التي لا يمكن استخدامها على الويب :

اسم الشخصية الكرتونية المفضلة لي

اسمي الحقيقي

عنواني

اسم فاكهتي المفضلة

اسم قطتي

الأسماء المستعارة
المناسبة

الأسماء المستعارة
الغير مناسبة

السؤال الرابع : أكمل الفراغ باختيار الإجابة الصحيحة من مجموعة الكلمات المحددة.

الفيروسات	اسماً مستعاراً	تصفح	الحاسوب
-----------	----------------	------	---------

1- يجب علينا تعلم كيفية الإنترنت بأمان .

2- اتبع قواعد التصفح لحماية نفسك و حماية

3- استخدم دائماً بدلاً من اسمك ، و استخدم برنامج الحماية الذي يحمي

الحاسوب من